

GEOGRAPHIE

3G2

Les espaces de faible densité et
leurs atouts



A la fin de ce chapitre et pour réussir les évaluations :

Ce que je dois CONNAITRE :

- **Comprendre et utiliser** les définitions suivantes :

- contraintes naturelles densité
- déprise démographique
- néo-ruraux tourisme vert
- parcs naturels nationaux

- **Localiser** dans l'espace (sur une carte de France) :

- les fleuves les montagnes
- les 3 climats du territoire français
- les mers / océans bordant la France

- **Dans un DC, je dois être capable de** :

- expliquer** les dynamiques (difficultés et atouts) des espaces de faible densité.
- expliquer** la diversité des espaces de faible densité.
- expliquer** pourquoi les espaces de faible densité attirent de nouveaux habitants.

Ce que je dois SAVOIR FAIRE :

- **Présenter un document**

(voir fiche méthode), c'àd donner :

- sa nature son auteur
- sa date sa source
- son thème

- **Etudier un document** :

- y prélever des informations pour répondre à des questions
- en comprendre le sens général
- l'expliquer à l'aide de mes connaissances

- **Se repérer dans l'espace,** sur une carte

- **Utiliser le langage cartographique** (voir fiche méthode) **pour réaliser un croquis** :

- nomenclature figurés linéaires
- figurés de surfaces
- figurés ponctuels ...

- **rédigier un texte** de quelques lignes pour répondre à une question.

2

Vocabulaire à maîtriser

(Pense à chercher les définitions manquantes **dans le lexique de ton manuel** et **recopie-les** en rouge.)

Contraintes naturelles :

Densité :

Espace en déprise démographique : espaces dont la population baisse.

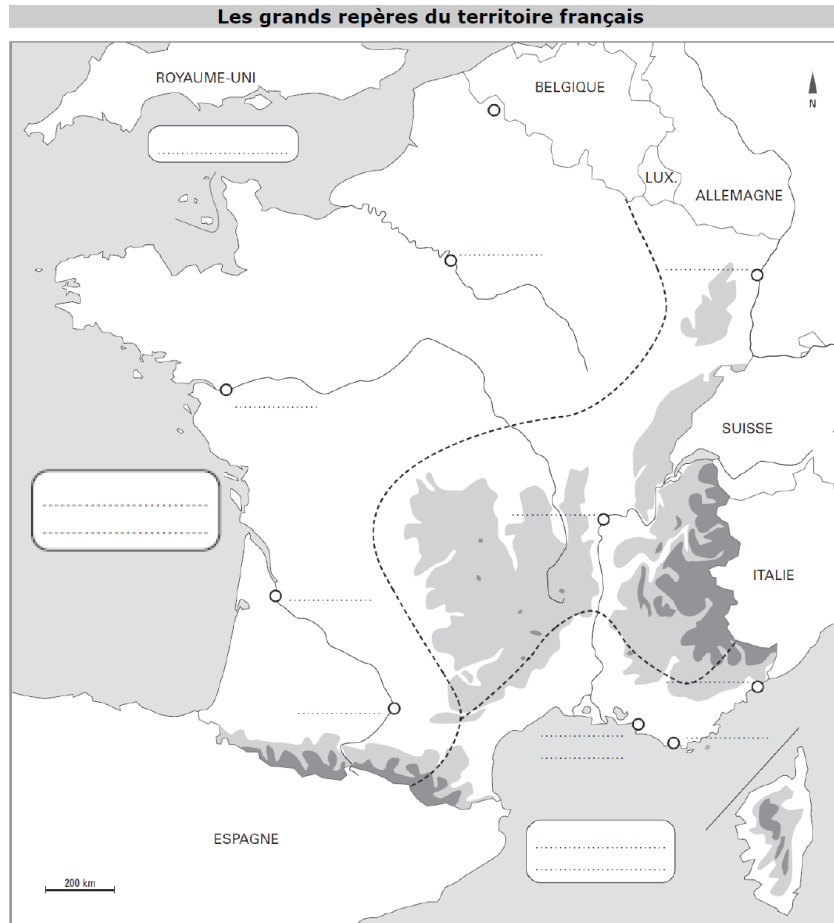
Néo-ruraux :

Parcs naturels nationaux :

Tourisme vert :



Activité 1



A l'aide des cartes p.367 et 369, complète le fond de carte ci-dessous :

- nomme les mers et les océans en majuscules bleues ;
- repasse les fleuves en bleu et nomme-les en minuscules bleues ;
- colorie les montagnes en marron et nomme-les en minuscules noires ;
- colorie les plaines en vert ;
- hachure en bleu le climat océanique, en orange le climat méditerranéen, en vert le climat semi-continental / montagnard

!!! N'oublie pas de créer la légende !!!

Problématique :

Quels sont les dynamiques et les atouts des espaces de faible densité en France ?

INTRODUCTION

-

Qu'est-ce qu'un espace de faible densité ?

La **densité** moyenne de population en France est de 118 hab./km².

On parle d'espace de faible densité lorsque la densité de population est inférieure à 30 hab./km².

En France métropolitaine, 6,5% de la population habite dans une région de faible densité.

Les contraintes naturelles (relief, climat) jouent un rôle dans la répartition de la population sur le territoire et donc sur les densités de population.

I. Etude de cas : la Lozère, entre déclin et renouveau

Activité 2

3H2 – Activité 2

La Lozère, entre déclin et renouveau

- Consignes :** a. Observe les documents p. 252-253 de ton manuel + sur brogghistoire.
b. Complète le tableau ci-dessous.
c. Recopie la carte mentale projetée au tableau et complète-la.

Doc.	Les ... (acteurs)	... profitent de la région pour car elle propose ...
1	touristes		
2		s'enrichir	
2	habitants		
2			des produits du terroir.
3	agriculteurs		
4		découvrir	
4	loueurs de matériels		
5		s'installer durablement	
5			de magnifiques paysages
5	agriculteurs	travailler	
1B			de vastes prairies
3B	néo-ruraux		



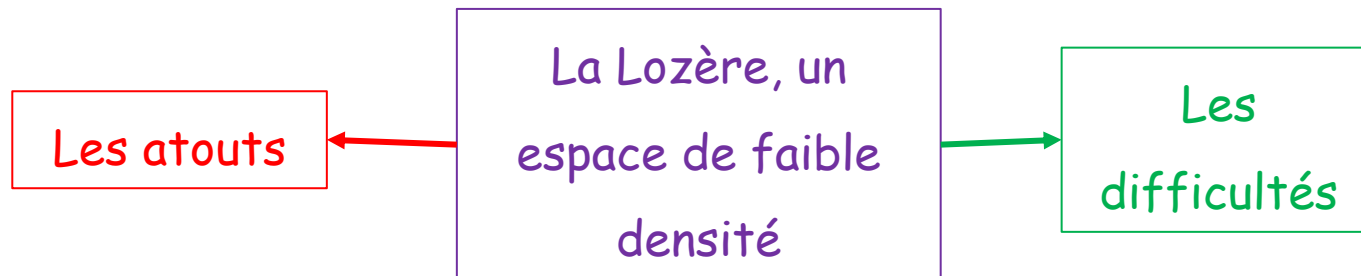
Activité 2



Consignes

ETAPE 1 - Etude de documents / constituer des connaissances

- a. Observe les docs p.252-253 + sur broglhistoire
- b. Complète le tableau
- c. Recopie et complète la carte mentale.



Activité 2



Consignes

ETAPE 2 - Développement construit

Dans un développement construit, et en vous appuyant sur l'exemple étudié en classe, expliquez les dynamiques des espaces de faible densité en France.

6

II. Les espaces de faible densité : des espaces dynamiques

A. Les espaces de faible densité : des espaces multiples

Les espaces les moins peuplés =

1. Les massifs montagneux

- les Alpes
- les Pyrénées
- le Massif central
- les Vosges
- le Jura

Leurs contraintes naturelles (pentes, l'enneigement en hiver) = des obstacles au peuplement.

2. Les espaces éloignés des littoraux ou des frontières

Les axes de transport y sont moins nombreux.

3. Les campagnes éloignées des aires urbaines.

La **diagonale des faibles densités** regroupe ces différents types d'espaces. Elle traverse le territoire des Ardennes, au nord-est, aux Pyrénées, au sud-ouest, en passant par le Massif central.

= espaces marqués par la **déprise démographiq.** : perdent souvent des habitants => vieillissement de leur population

7

B. Des espaces de faible densité : des espaces aux multiples atouts

Espaces de faible densité :

1. accueillent de plus en plus de nouveaux habitants désireux de s'éloigner des aires urbaines à la recherche d'une meilleure qualité de vie (lieux plus calmes, proches de la nature et où l'immobilier est moins cher). Ces nouveaux habitants = retraités, résidents secondaires (pour les vacances) ou **néo-ruraux**.

2. peuvent bénéficier d'une activité agricole performante. EX : régions d'élevage intensif (Bretagne), de céréaliculture (Beauce), espaces viticoles (Bordelais, Champagne). D'autres régions ont réussi à maintenir une activité agricole qui participe à la protection des paysages et la valorisation du patrimoine local (mise en avant des savoir-faire locaux anciens, avec soutien de l'Etat, pour répondre à demande croissante de produits de qualité = territoires labellisés.)

3. = un atout touristique car activité touristique recherche de grandes réserves d'espaces :

- développement du **tourisme vert** et tourisme culturel, à la découverte de la nature et des terroirs (randonnées, VTT, tourisme à la ferme) ;

- dans massifs montagneux (surtout Alpes et Pyrénées) : stations de sports d'hiver = très attractives -> tourisme de masse. Mais aussi tourisme vert en été ;

- les **parcs naturels nationaux** cherchent à concilier protection des milieux, mise en valeur du patrimoine et développement d'activités de loisirs.

C. Les usages conflictuels des espaces ruraux

En montagne, les acteurs de la protection des milieux naturels critiquent le tourisme de masse qui nuit à la faune, à la flore et aux paysages. A l'inverse, les professionnels du tourisme dénoncent les entraves faites à une activité économique essentielle pour dynamiser ces régions.

Les néo-ruraux supportent mal les nuisances liées aux activités agricole (bruit, pollution...). + leur arrivée provoque une augmentation des prix de l'immobilier qui rend difficile l'accession à la propriété

10

CONCLUSION

-

Croquis de synthèse

Activité 3 - En autonomie



Réalise un croquis sur les espaces de faible densité et leurs atouts.

Etape 1 : dans le cours, sélectionne les informations qui peuvent être représentées sur un croquis.

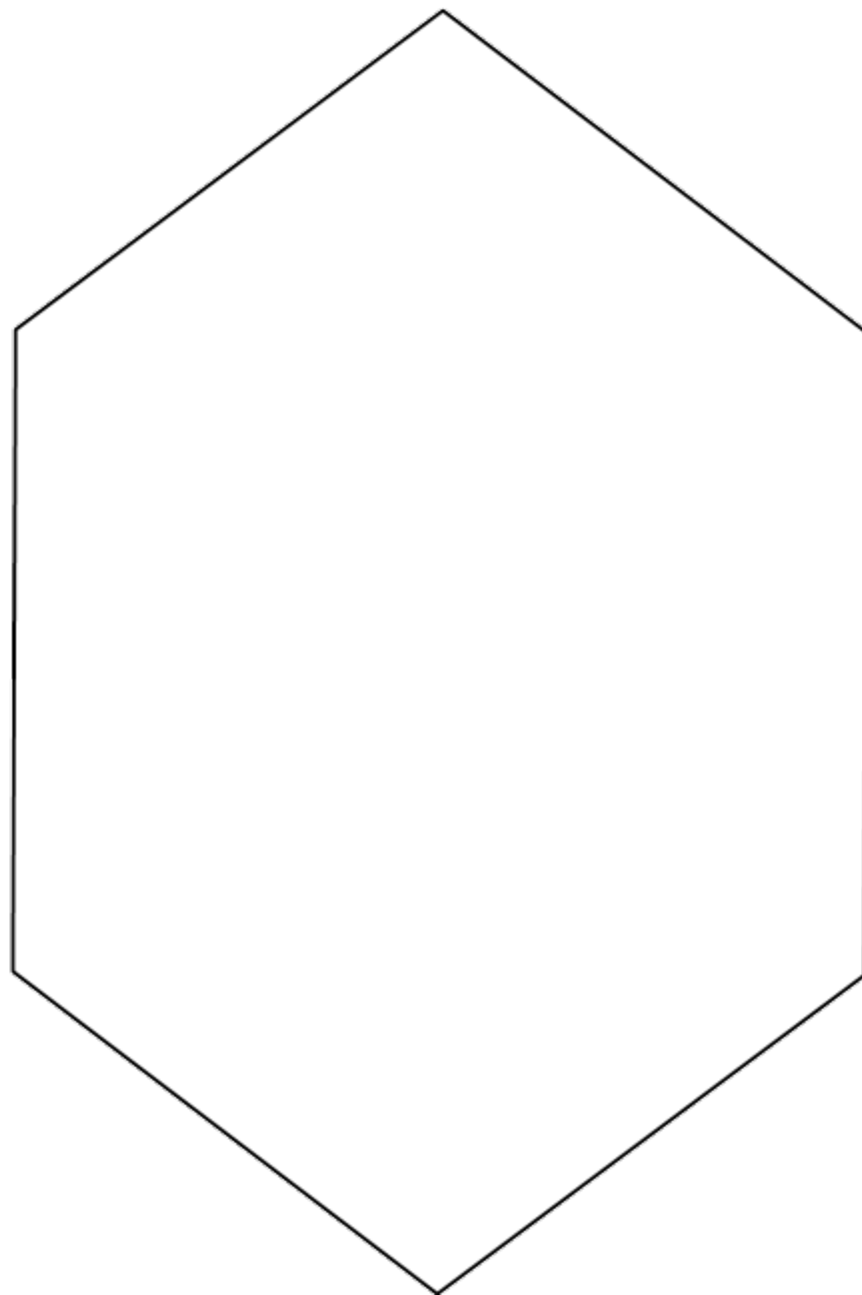
Etape 2 : réfléchis aux figurés que tu vas utiliser.

Etape 3 : reporte les figurés sur ton fond de croquis.

Etape 4 : complète la légende.

Etape 5 : Donne un titre à ton croquis.

Piste noire



Piste verte

